





Obwód figur geometrycznych



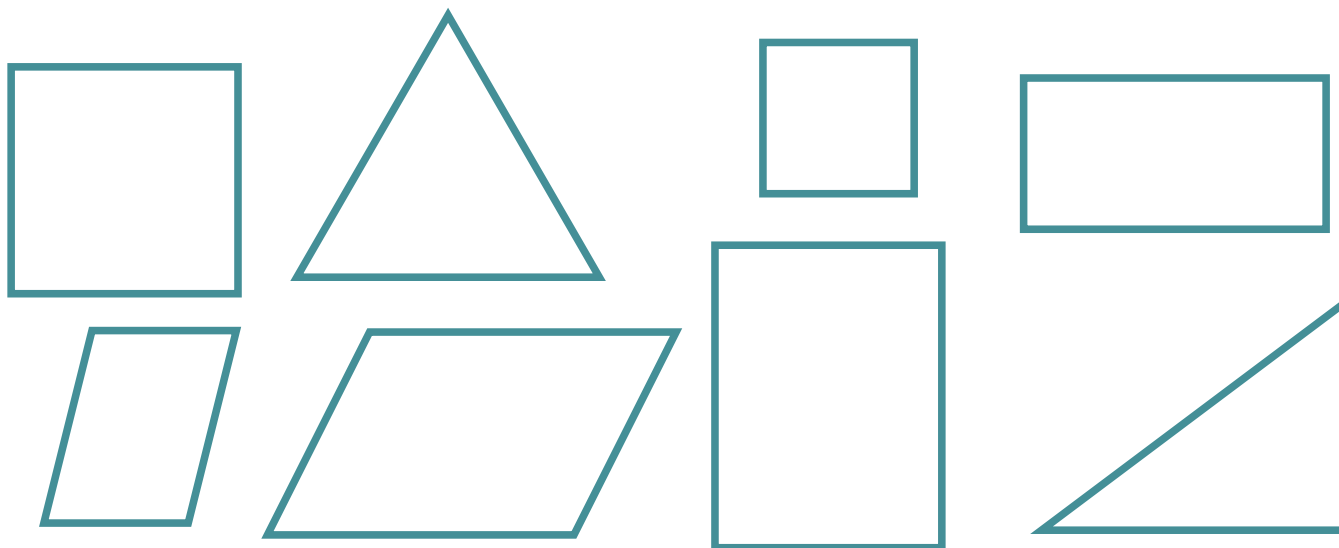
Zadanie 1

Oblicz i zapisz obwód każdej figury geometrycznej.



Zadanie 2

Spośród figur geometrycznych pokoloruj tylko te, których obwód wynosi 12 cm.



Zadanie 3

Krótszy bok prostokąta ma długość 4 cm, a drugi bok jest o 3 cm dłuższy. Oblicz obwód tego prostokąta.

[illegible][illegible]

Obliczenie:

[illegible]

Odpowiedź:

[illegible]

Zadanie 4

Ania narysowała trójkąt, którego bok AB ma długość 2 cm, bok BC jest o 2 cm dłuższy od boku AB, a bok CA jest 2 razy dłuższy niż bok AB. Ile wynosi obwód trójkąta, który narysowała Ania?

Dane:

Długość boku AB:

[illegible]

Długość boku BC:

[illegible]

Długość boku CA:

[illegible]

Działanie:

[illegible]

Odpowiedź:

[illegible]